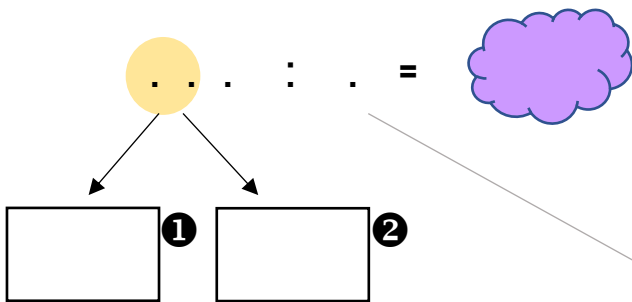


Stappenkaart grote deelsommen



1. Kijk naar ..

Waar ligt dat getal ongeveer in de tafel van . ?




1 x 5 x 10 x .

. x . = .. →  x 8 = ①

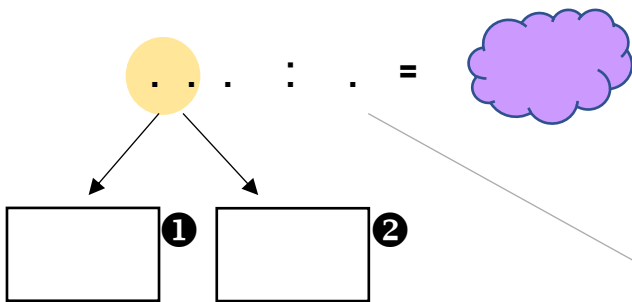
2. ... - ... = ②

Hoe vaak x . ?

 x . = ②



Stappenkaart grote deelsommen



1. Kijk naar ..

Waar ligt dat getal ongeveer in de tafel van . ?




1 x 5 x 10 x .

. x . = .. →  x 8 = ①

2. - = ②

Hoe vaak x . ?

 x . = ②

